

Adı ve Soyadı:

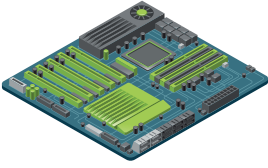

Sınıfı:

Numarası:

## SORULAR

Kazanım: 5.1.2.1. Bilgisayar sisteminin temel kavramlarını ve işlevlerini açıklar.

1. Aşağıda bilgisayarın en önemli donanımlarından iki tanesinin görseli verilmiştir. Bu donanımların adlarını ve ne işe yaradığını karşısına yazınız.



Kazanım: 5.1.2.1. Bilgisayar sisteminin temel kavramlarını ve işlevlerini açıklar.

2. Aşağıdaki metin okuduktan sonra verilen soruları cevaplayınız.



Erdem, yeni okulunda bir bilgi yarışmasına katılmaya karar verdi. Bilgi yarışmasının başlamasına sadece bir hafta kalmıştı, bu yüzden bilgi ve iletişim teknolojilerini (BİT) kullanarak hazırlık yapmaya başladı. Öğrenmek istediği bilgilere hızla erişebilmesi için bilgisayarını ve interneti kullandı. Klavye ve fareyi hızla kullanarak, farklı kaynaklardan bilgiye kolayca ulaşabildi ve bilgiye ulaştıktan sonra hepsini not aldı. Ayrıca, yazıcısını kullanarak bilgileri hızlıca kağıda aktardı.

Erdem, bilgi yarışması için hangi bilgi ve iletişim teknolojilerini (BİT) kullandı? Yazınız.

Kazanım: 5.1.1.3. Bilişim teknolojilerini günlük yaşamdaki kullanım amaçlarına göre sınıflandırır.

3. Aşağıda Ankara'da bir ulaşım aracının istasyon bilgileri verilmiştir. Buna göre bu ulaşım teknolojisinin adı nedir? Yazınız.



Kazanım: 5.1.1.2. Geçmişten günümüze bilgi ve iletişim teknolojilerindeki değişimi fark eder.

4. "1946 yılında yapılmıştır. Günümüzdeki bilgisayarların temeli kabul edilmektedir. 167 m<sup>2</sup>'lik bir alanı kaplıyordu. Ağırlığı ise 30 tondu." **Metne göre özellikleri verilen ilk elektronik bilgisayarın adı nedir?**

.....

Kazanım: 5.1.2.4. Bilgisayarda veri saklama yöntemlerini ve depolama birimlerini açıklar.

5. 1 Megabayt (MB) kaç Kilobayt (KB) bilgi saklayabilir? Yazınız.

.....


Kazanım: 5.1.3.2. Temel dosya ve klasör yönetim işlemlerini yapar

6. En çok kullanılan ses dosyası uzantısı nedir? Yazınız.

.....

Kazanım: 5.1.2.3. Fare ve klavyeyi doğru bir şekilde kullanır.

7. Aşağıda bir F klavye görseli verilmiştir.  
Buna göre F klavyedeki 1, 2, 3, 4 ve 5 numaralı tuşların adını üstüne yazınız.



Kazanım: 5.2.1.2. Bilişim teknolojileri ile interneti kullanma ve yönetme sürecinde etik ilkelere uymanın önemini açıklar.

8. Bilişim etiğine 5 örnek veriniz.

1. ....
2. ....
3. ....
4. ....
5. ....

Kazanım: 5.1.1.2. Geçmişten günümüze bilgi ve iletişim teknolojilerindeki değişimi fark eder.

9. Dünyanın son yüzyıldaki hızlı değişimin öncü alanlarından birisi bilişim teknolojileridir. Aşağıda bilişim teknolojilerinin gelişmesine katkı sağlayan en ünlü iş adamları verilmiştir. **Bu kişilerin ortak özelliklerine iki örnek veriniz.**



Elon Musk



Jeff Bezos



Bill Gates



Steve Jobs



Mark Zuckerberg

1. ....
2. ....

Kazanım: 5.2.2.1. Dijital vatandaşlık uygulamalarının kullanım amaçlarını ve önemini kavrar.

10. "İnternet ortamındayken, dijital yurttaşlık kurallarına uymamız hem kendimiz hem de o ortamı paylaşan herkes için çok önemlidir. Bunun için, gerçek hayatta yapmayacağımız hiçbir şeyi, internet ortamında da yapmamalıyız. Eğer, dijital yurttaşlık kurallarına uymaz isek, zorbalık yapmış oluruz."

**Dijital zorba olmamak için, uzak durmamız gereken davranışlar nelerdir?  
Beş tane örnek yazınız.**



1. ....
2. ....
3. ....
4. ....
5. ....