

## BİLİŞİM TEKNOLOJİLERİ VE YAZILIM DERSİ 5. SINIFLAR 1. DÖNEM 2. YAZILI SORULARI

- 1) Aşağıdakilerden hangisi bilgisayar kullanırken dikkat etmemiz gerekenlerden biri **değildir**? (5)
- A) Ekran göz hizasına gelmeli.  
B) Dik oturulmalı.  
C) Bilekler klavye kullanırken desteklenmeli.  
D) **Ayaklar yer ile temas etmemeli.**


- 2) *Bilgisayarın elle tutulabilen gözle görülebilen fiziksel parçalarına ne denir?* (5)







- A) Yazılım  
B) **Donanım**  
C) Teknoloji  
D) İnternet
- 3) Aşağıdakilerden hangisi bilgisayar bağımlısı olmanın olası sonuçlarından biri **olamaz**? (5)
- A) Göz bozukluğu  
B) Dikkat eksikliği  
C) **Derslerinde başarılı olma**  
D) Tembellik
- 4) Aşağıdaki tabloda verilen donanımların adlarını karşısına yazınız. (20)

	<b>KLAVYE</b>
	<b>RAM BELLEK</b>
	<b>GÜÇ KAYNAĞI</b>
	<b>KULAKLIK</b>

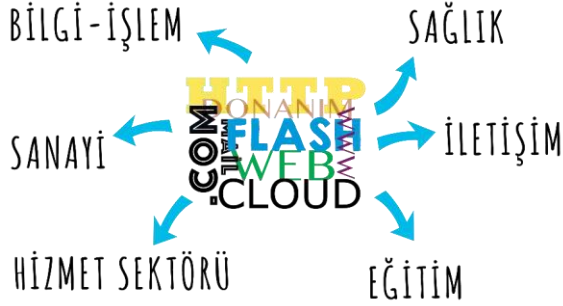
- 5) Aşağıdaki klavye görselinde yazı yazarken boşluk bırakan tuşu bulun ve kırmızı renge boyayın. Sürekli büyük/küçük harf yazmak için kullanılan tuşu bulun ve kırmızı renge boyayın. (10)



- 6) Aşağıdakilerden hangisi etik davranışlardan biri **değildir**? (5)
- A) İnterneti, insanlara zarar vermek için kullanmamalıyız.  
B) Başkalarının internette yaptığı çalışmalara engel olmamalıyız.  
C) Başkalarının gizli ve kişisel dosyalarını internet yoluyla çalmamalıyız.  
D) **Parasını ödemediğimiz yazılımları kopyalayıp kendi malımız gibi kullanabiliriz.**
- 7) Aşağıda verilen dosya türlerinden hangisi bir resim dosyasına ait **değildir**? (5)

A)	
B)	
C)	
D)	

- 8) Aşağıda bilişim teknolojilerinin kullanıldığı alanlar verilmiştir. Buna göre aşağıda verilen bilişim teknolojileri alanı-bilişim teknolojileri aracı tablosunda yapılan karşılaştırmaları **DOĞRU** veya **YANLIŞ** olarak belirtiniz. (5)



EĞİTİM	ETKİLEŞİMLİ TAHTA	<b>DOĞRU</b>
İLETİŞİM	AKILLI TELEFON	<b>DOĞRU</b>
SANAYİ	ULTRASON CİHAZI	<b>YANLIŞ</b>
BİLGİ İŞLEM	HESAP MAKİNESİ	<b>DOĞRU</b>
SAĞLIK	HIZLI TREN	<b>YANLIŞ</b>

- 9) Birbirine yakın mesafedeki; aynı binada veya aynı oda içerisinde bulunan bilgisayarların bağlanmasıyla oluşturulan ağlara ne denir? (5)  
 A) Geniş alan ağı **C) Yerel alan ağı**  
 B) Metropol alan ağı **D) Mega alan ağı**

- 10) İyi bir dijital yurttaş aşağıdakilerden hangisini yaparsa doğru yapmış olur? (5)  
 A) Kullandığı içeriklerin kaynaklarını belirtmez.  
 B) Başkaları ile düzgün ve nazik konuşmaz.  
 C) Başkasının şifresini ele geçirmeye çalışır.  
 D) **Profilini doğru bilgiler kullanarak oluşturur.**

11)



Adem, sosyal medya hesabı için parola belirleyecektir. Ona güçlü bir parola örneği verir misin? (5)

.....

- 12) Aşağıda verilen aramalardan en doğru olanını işaretleyiniz. (5)  
 balık yemini nereden alabilirim?  
 **akvaryum balık yemi ankara**
- 13) Aşağıdaki maddelerin yanındaki kutucuklara doğru - yanlış olmalarına göre D (doğru) veya Y (yanlış) işaretlerini koyunuz. (5)

Kimseye internette kullanıcı adınızı ve parolanızı söylemeyin.	<b>D</b>
Eğer internette tanıştığınız biri, size bir şey gönderirse hemen kabul edin.	<b>Y</b>
Kızdığınız insanlara kızgınlığınızı saldırgan bir tutum sergileyerek anlatın.	<b>Y</b>
Ailenize haber vermeden bilgisayar üzerinden özel fotoğraflar paylaşabilirsiniz.	<b>Y</b>
Güvenilirliğinden emin olmadığınız sitelere gereğinden fazla bilgi vermeyin.	<b>D</b>

- 14) Aşağıda siber tuzaklardan korunmak için dikkat etmemiz gerekenler belirtilmektedir. Cümlelerde yer alan boşlukları, size verilen kelimeleri kullanarak doğru bir şekilde yerleştirin. (10)

kimlik bilgileri – pop-up



internette **kimlik bilgileri** isteyen web sitelerine karşı dikkatli ol.

Açılır pencerelerle (**pop-up**) gelen yarışma ve anketlere katılma.



- 15) Aşağıdakilerden hangisi bilgisayar ağlarında kullanılan donanımlardan biri **değildir**? (5)  
 A) Modem  
 B) Ağ kartı  
 C) Ağ kablosu  
 D) **Joystick**